

COMPLEJO EDUCATIVO SAN BARTOLOMÉ APÓSTOL
CÓDIGO 70026
MATEMÁTICA SEGUNDO CICLO
PROFESORA DEYSI DE MARTÍNEZ
CONTINUIDAD EDUCATIVA FASE 3

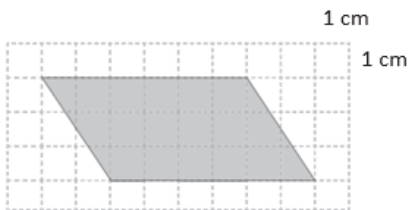
EVALUACIÓN 4 (Semana 7 y 8)
QUINTO GRADO “A” y “B”

San Bartolo, 22 de julio de 2020.

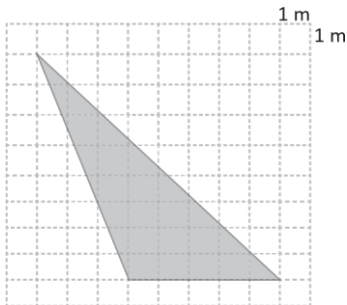
Indicaciones. Resuelve correctamente la siguiente prueba dejando constancia de todos los procedimientos respectivos. Posteriormente enviar las evidencias al correo profesoradeysirdz@gmail.com a más tardar el 31 de julio. Favor ser responsables en la fecha de entrega.

1. Traza la base y la altura, y calcula el área de las figuras:

a. El área del paralelogramo es:

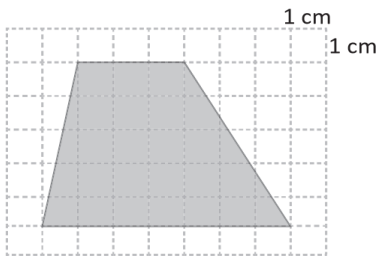


b. El área del triángulo es:



2. En la figura marca los elementos necesarios para calcular el área y determina el área de cada una:

a. El área del trapecio es:



b. El área del rombo es:

