

libro Tomo 2 Periodo: 3° trimestre UNIDAD: 8 - Identifiquemos las formas de triángulo, rectángulo, cuadrado y círculo

Competencias de la unidad: Identifica y clasifica objetos del entorno de acuerdo a la forma de triángulo, rectángulo, cuadrado o círculo que posean.


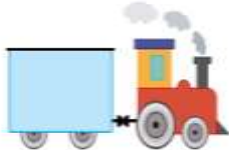


INDICACION DEL DOCENTE: antes de iniciar debes lavarte las manos muy bien y seguir la ruta del aprendizaje de la clase

Analiza-soluciono-comprende-resuelve- resuelve en casa de cada clase que realizas .

Identifiquemos formas geométricas

Identifiquemos las formas de triángulo, rectángulo, cuadrado y círculo (7 clases)

En esta unidad se introducen nociones intuitivas de las figuras geométricas básicas: triángulo, rectángulo, cuadrado y círculo. No se establecen definiciones formales, se hace un tratamiento más de "forma de", con la idea que conozcan únicamente las figuras de forma visual y no tanto por sus propiedades. Las definiciones formales se trabajarán en segundo y tercer grado, sin embargo, la idea intuitiva que se desarrolle en esta unidad es base para establecer una adecuada definición posteriormente.

Lunes	Martes	Miércoles	Jueves
<p>2.1 Identifiquemos la forma del triángulo</p> <p>2.1 Identifiquemos la forma del triángulo</p> <p>Análisis Antonio dibujó un barco. Traza la forma que tiene la vela del barco.</p> 	<p>2.2 Identifiquemos la forma del rectángulo</p> <p>2.2 Identifiquemos la forma del rectángulo</p> <p>Análisis Julia dibujó un tren. Traza la forma de los vagones del tren.</p> 	<p>2.3 Identifiquemos la forma del cuadrado</p> <p>2.3 Identifiquemos la forma del un cuadrado</p> <p>Análisis Antonio compró una pintura, traza la forma que tiene el marco.</p> 	<p>2.4 Identifiquemos la forma del círculo</p> <p>2.4 Identifiquemos la forma del círculo</p> <p>Análisis Ana conduce su bicicleta, traza la forma que tienen las llantas de la bicicleta.</p> 

Viernes

Autoevaluación elabora pequeño cartel y **envía foto 11 de septiembre 2020**

- identifica las formas y escribe el nombre
- Representa a la par otro objeto con recortes a cada dibujo con igual forma.

Forma de: _____

Forma de: _____

Forma de: _____

